

परमाणु ऊर्जा शिक्षण संस्था, मुंबई

Atomic Energy Education Society

Session : 2023 -24

Class : V ENGLISH

WORKSHEET Based on L-6 The talkative Barber

Name - \_\_\_\_\_ Class/sec- \_\_\_\_\_ Date- \_\_\_\_\_

**Q I ) Underline the correct spelling .**

- 1) Exhausted ,exhhausted ,exhaausted .
- 2) Hastily,hastly ,hastely .
- 3) Patiencece ,patient ,patience.
- 4) Affffair ,affair , affairre .

**Q II) Give one word .**

- 1) Talking a lot - \_\_\_\_\_.
- 2) Someone who talks a lot - \_\_\_\_\_.
- 3) Tired and fed up – \_\_\_\_\_ .
- 4) Feeling or involving despair – \_\_\_\_\_.
- 5) Willing to give help or support more than what is usually expected - \_\_\_\_\_ .
- 6) Having a hump on the back – \_\_\_\_\_ .
- 7) A sweet dish served after the main meal - \_\_\_\_\_.
- 8) Pity or forgiveness shown towards someone in your power – \_\_\_\_\_ .
- 9) Stop doing something - \_\_\_\_\_ .

**QIII) Complete the following .**

- 1) In the city of Cashgar , lived a barber \_\_\_\_\_ .
- 2) Once the Sultan called the barber \_\_\_\_\_ .

- 3) The Sultan was completely fed up by now and decided \_\_\_\_\_ .
- 4) The Sultan who was at the mercy of the barber , was ready \_\_\_\_\_ .
- 5) The Sultan , in desperation , since his head was half shaved ordered \_\_\_\_\_ .
- 6) The Barber left off shaving the Sultan \_\_\_\_\_ .

**Q III ) Who said to whom .**

- 1) “ When are you going to stop talking and begin to do your work ?”

Ans - \_\_\_\_\_

- 2) “You do me an injury by calling me a chatterer .”

Ans - \_\_\_\_\_ .

- 3) “ Stop making your fine speeches and let me go quickly .I have an affair of the greatest importance .”

Ans- \_\_\_\_\_ .

- 4) “ My Master , you are acting hastily in this matter .”

Ans- \_\_\_\_\_ .

**QIV ) Creative Writing .**

- 1) Do you like friends who talk a lot ? Why ?

Ans - \_\_\_\_\_

**QV) Make sentences .**

- 1) Exhausted - \_\_\_\_\_ .
- 2) Quit - \_\_\_\_\_ .

Total No. of printed pages: 2

परमाणु ऊर्जा शिक्षण संस्था, मुंबई

**Atomic Energy Education Society**

**Session : 2023 -24**

**Class : V English**

**Worksheet based on Poem 7 Topsy-turvy Land**

**Name - \_\_\_\_\_ Class/sec- \_\_\_\_\_ Date- \_\_\_\_\_**

---

**Q1) Rearrange the letters and write the correct spelling.**

a) lppeeo - \_\_\_\_\_ b) ureesalp - \_\_\_\_\_

c) veltra - \_\_\_\_\_ d) dangr - \_\_\_\_\_

**Q2) Read the following stanza from the poem and answer the following questions.**

And buses on the sea you'll meet,  
While pleasure boats are planned,  
To travel up and down the streets  
Of Topsy-turvy Land.

*a) Write the rhyming words from the poem.*

i) greet- \_\_\_\_\_ ii) leisure - \_\_\_\_\_

*b) Pick any two naming words (nouns) from the given stanza.*

\_\_\_\_\_

*c) Pick any two joining words (conjunctions) from the given stanza.*

\_\_\_\_\_

d) Find out the words from the given stanza which means

i) A feeling of happiness: \_\_\_\_\_

ii) Go from one place to another: \_\_\_\_\_

e) The full form of you'll is \_\_\_\_\_.

f) The present tense of planned is \_\_\_\_\_.

**Q4) Complete the sentences.**

a) The poet of the poem "Topsy-turvy Land" \_\_\_\_\_.

b) In Topsy-turvy Land people walk \_\_\_\_\_.

**Q5) Rearrange the words to form meaningful sentences.**


i) wear / hats / their/ feet / on /they / their

\_\_\_\_\_

ii) boats/ Topsy-turvy Land / the /are / pleasure / planned/ in

\_\_\_\_\_

**Q6) Write few sentences on the given picture. Give a suitable title to it.**



\_\_\_\_\_

\_\_\_\_\_

\_\_\_\_\_

\_\_\_\_\_

\_\_\_\_\_

परमाणु ऊर्जा शिक्षण संस्था, मुंबई  
**Atomic Energy Education Society**

**Session : 2023 -24**

**Class : V EVS**

**WORKSHEET Based on L-13**

Name - \_\_\_\_\_ Class/sec- \_\_\_\_\_ Date- \_\_\_\_\_

**Q1. Fill in the blanks with correct alternatives given in brackets**

(1400, 6, stethoscope , 500, houseboat, pashmina )

1. Changpa tribe has only \_\_\_\_\_-people.
2. Pashmina shawls are made up of \_\_\_\_\_ sweaters.
3. An instrument to measure the heart beat is \_\_\_\_\_.
4. Mumbai is \_\_\_\_\_ km far from Delhi.
5. Donga is a type of \_\_\_\_\_ found in Srinagar .
6. The famous \_\_\_\_\_ wool is made from special goats.

**Q2. Answer the following questions:**

1. Which states would one pass through while traveling from Mumbai to Kashmir?

---



---



---

2. What are the materials used for making your house?

---



---

3. What is a Rebo ?

---

---

4. Can you guess the similarities and differences in the life of Bakarwal people and the life of the Changpas?

---

---

---

---

5. What do you know about changpas?

**Q3. Match the following .**

- |                       |                                   |
|-----------------------|-----------------------------------|
| 1. 'Jule, Jule'       | (a) Place to keep sheep and goats |
| 2.) Houses in Laddakh | b) Tent of Changpas               |
| 3. Yak                | c) 'Welcome,welcome'              |
| 4) lekha              | d)made of stones                  |
| 5)Dab                 | e)special window which comes out  |

**Q4. Give reasons for the following.**

1. It is difficult to breathe at high temperature?

---



---



---

2. During winters, Tashi and his family live on the ground floor. Why would they be doing so?

---



---



---

**Q5. Write 'True' or 'False' for the following statements.**

1. Loner is the name of motorcycle. \_\_\_\_\_
2. Distance from Mumbai to Delhi is 1400 km. \_\_\_\_\_
3. All deserts are cold deserts. \_\_\_\_\_
4. Manali is a hilly area. \_\_\_\_\_
5. Changpa tribe lives in the mountains \_\_\_\_\_
6. Mehrab are the beautiful arches in the old house. \_\_\_\_\_

**Q5. Complete the table based on the given information.**

Place	Type of House	Material they are made of
1.Mumba		
2.Ladakh		

3.Srinagar		
4.Jammu		

**Q6. A) Identify the picture and write two lines on each**



**1)** \_\_\_\_\_  
\_\_\_\_\_  
\_\_\_\_\_  
\_\_\_\_\_



**2)** \_\_\_\_\_  
\_\_\_\_\_



परमाणु ऊर्जा शिक्षण संस्था

ATOMIC ENERGY EDUCATION SOCIETY

कक्षा/वर्ग-पाँचवीं/\_\_\_\_\_ विषय-हिंदी दिनांक - \_\_\_\_\_

नाम - \_\_\_\_\_ अनुक्रमांक - \_\_\_\_\_

कार्य पत्र पाठ - 7 डाकिए की कहानी, कंवरसिंह की जुबानी

I. सही शब्द चुनो |

1. कंवरसिंह किस राज्य से हैं ?

1. उत्तर प्रदेश ख. हिमाचल प्रदेश ग. मध्य प्रदेश

2. कंवरसिंह की उम्र क्या है ?

1. चालीस साल ख. पैंतीस साल ग.पैंतालीस साल

3. उनके ऊपर शिमला के जनरल पोस्ट ऑफिस में हमला कब हुआ था?

1. 1997 में ख. 1999 ग. 1998

II. प्रश्नों के उत्तर लिखो |

1. कंवरसिंह के बेटे की मृत्यु कैसे हुई थी ?

-----  
-----

2. उनके बच्चे किस स्कूल में पढ़ने जाते हैं ?

-----  
-----

3. स्कूल कितना दूर है ?

-----  
-----

4. भारतीय डाक सेवा कैसी है ?

-----  
-----

5. अपनी जान पर खेलकर डाक की चीज़ों को बचाने के लिए सरकार ने उन्हें क्या इनाम

दिया ?

-----  
-----

III. वाक्य पूरे करो |

1. पहले मैं डाक सेवा में ----- सेवक था |
2. हिमाचल में बूढ़े लोगों को पेंशन हर ----- महीनों के बाद इक्कठा दी जाती है |
3. बर्फ में चलने से ----- नामक बीमारी हो जाती है।
4. ----- का वेतन बाबू के जितना हो जाता है |
5. 'बेस्ट पोस्टमैन' का इनाम ----- में मिला |

IV. डाकिए के बारे में पाँच वाक्य लिखो |

-----  
-----  
-----  
-----  
-----  
-----  
-----

VII. कंवरसिंह के बारे में लिखो |

-----  
-----

परमाणु ऊर्जा शिक्षण संस्था

ATOMIC ENERGY EDUCATION SOCIETY

कक्षा/वर्ग-पाँचवीं/\_\_\_ विषय-हिंदी दिनांक - \_\_\_\_\_

नाम - ----- अनुक्रमांक - \_\_\_\_\_

कार्य पत्र पाठ - 8 वे दिन भी क्या दिन थे

I. सही शब्द चुनो |

1. कुम्मी ने अपनी डायरी में कब लिखा ?

1. 2151 ख. 2155 ग. 2156

2. कुम्मी के दोस्त के नाम क्या था ?

1. सुमित ख. नमित ग. रोहित

3. कुम्मी के हाथ जो किताब आई थी वह कब छपी थी ?

1. 1965 ख. 1966 ग. 1967

II. बीस साल पहले इनकी कीमत क्या थी ?

1. आलू ----- 4. लड्डू -----

2. शक्कर ----- 5. चावल -----

3. दाल ----- 6. दूध -----

III. 50 साल बाद इनमें क्या-क्या बदल आएगा ?

1. फिल्मों में -----  
-----

2. गाँव की हालात में -----  
-----

3. तुम्हारी परिचित किसी नदी में -----  
-----

4. स्कूल में -----  
-----

IV. प्रश्नों के उत्तर लिखो |

1. कुम्मी के हाथ जो किताब आई थी वह कब छपी होगी ?

-----  
-----

2. कागज़ से पहले की छपाई किस-किस चीज़ पर हुआ करती थी ?

-----  
-----

3. तुम मशीन की मदद से पढ़ना चाहोगे या अध्यापक की मदद से ? क्यों ?

-----  
-----

V. कुछ सालों बाद ये चीज़ें कैसी होंगी ?

पेन - -----  
-----

घड़ी - -----  
-----

VI. 'मैं' शीर्षक से एक अनुच्छेद लिखो ।

-----  
-----  
-----  
-----  
-----

परमाणु ऊर्जा शिक्षण संस्था

ATOMIC ENERGY EDUCATION SOCIETY

कक्षा/वर्ग-पाँचवीं/\_\_\_\_\_ विषय-हिंदी दिनांक-\_\_\_\_\_

नाम- \_\_\_\_\_ अनुक्रमांक - \_\_\_\_\_

कार्य पत्र कविता 9 - एक माँ की बेबसी

I. सही शब्द चुनो |

1. लड़के का नाम क्या था ?

1. मदन ख. रतन ग.जतन

2. बच्चों के लिए वो क्या था ?

1. अजूबा ख.भाई ग.बच्चा

3. रतन के साथ कौन आती थी ?

1. दादी ख.दीदी ग. माँ

II. 'बे' को जोड़कर और शब्द बनाओ | जैसे – बेबस

-----

-----

-----

-----

III. अपनी माँ के बारे में सोचते हुए नीचे लिखे वाक्यों को पूरा करो |

1. मेरी माँ बहुत खुश होती है जब -----

-----

2. माँ मुझे इसलिए डाँटती हैं क्योंकि -----

-----

3. मेरी माँ चाहती है कि मैं -----

-----

4. माँ उस समय बहुत बेबस हो जाती है जब -----

-----

5. मैं चाहता हूँ कि मेरी माँ -----  
-----

IV. प्रश्नों के उत्तर लिखो |

1. रतन क्या सोचकर घबराता होगा ?

-----  
-----

2. रतन की माँ की आँखों में किस तरह की बेबसी झलकती होगी ?

-----  
-----

V. मुहावरों का वाक्यों में प्रयोग करो |

1. आँख दिखाना - -----  
-----

2. नज़र चुराना - -----  
-----

3. आँख का तारा - -----  
-----

4. नज़रें फेर लेना - -----  
-----

5. आँख पर पर्दा पड़ना - -----  
-----

VI. कविता की पंक्तियाँ पूरी करो |

हर समय दिखती

----- |

परमाणु ऊर्जा शिक्षण संस्था

ATOMIC ENERGY EDUCATION SOCIETY

कक्षा/वर्ग : पाँचवी/\_\_\_\_\_ विषय-हिंदी दिनांक:\_\_\_\_\_

नाम : ----- अनुक्रमांक:-----

कार्यपत्र पाठ 10 : एक दिन की बादशाहत

- I. सही उत्तर चुनो ।
  - 1.आरिफ और सलीम को एक दिन की बादशाहत किसने दी ?  
दादी ने ( ) अम्मी ने ( ) अब्बा ने ( )
  - 2.तर माल किसे कहते हैं ?  
अंडे और मक्खन ( ) दलिया-बिस्कुट ( ) पानी ( )
  - 3.किसके कॉलेज में फंक्शन था ?  
आपा के ( ) भाई जान के ( ) अब्बा के ( )
- II. कौन-कौन सी चीजें तुम्हें बिल्कुल बेकार लगती हैं ?
  - 1.पहनने की चीजें -----
  - 2.खाने-पीने की चीजें -----
  - 3.करने के काम -----
  - 4.खेल -----
- III. वह एक दिन बीत जाने के बाद इन्होंने क्या सोचा होगा ?
  - 1.आरिफ़ ने -----  
-----

2.अम्मा ने -----

-----

3.दादी ने -----

-----

IV. 'भारी' विशेषण का चार अलग-अलग संज्ञाओं के साथ इस्तेमाल किया गया है। इन चारों में 'भारी' का अर्थ एक-सा नहीं है। इनमें क्या अंतर है?

1. भारी साड़ी -----

2. भारी अटैची -----

3. भारी काम -----

4. भारी बारिश -----

V. कहानी में किन-किन चीजों को तर माल कहा गया है?

-----

-----

कुछ ऐसी चीजों के नाम भी बताओ, जो तुम्हें 'तर माल' नहीं लगती?

-----

-----

इन चीजों को तुम क्या नाम देना चाहोगी?

-----

-----

बादशाहत क्या होती है?

-----





परमाणु ऊर्जा शिक्षण संस्था

ATOMIC ENERGY EDUCATION SOCIETY

कक्षा/वर्ग : पाँचवी/\_\_\_\_\_ विषय-हिंदी दिनांक:\_\_\_\_\_

नाम : ----- अनुक्रमांक:-----

कार्यपत्र पाठ 11 : चावल की रोटियाँ

I. सही उत्तर चुनो |

1. कोको की माँ ने क्या नास्ता बनाया था ?

गेहूँ की रोटियाँ ( ) उपमा ( ) चावल की रोटियाँ ( )

2. परीक्षा के बारे में खास सूचना किस पर आने वाली थी?

टीवी पर ( ) टेलीफोन पर ( ) रेडियो पर ( )

3. कोको की माँ किस रंग का फूलदान घर पर लायी थी?

गुलाबी ( ) पीला ( ) नीला ( )

II. इनको सही क्रम में लगाकर इनमें अंतर बताओ |

1. चावल - धान - भात - मुरमुरा - चिउड़ा

उ.-----

क.चावल -----

-----ख.धान -----

-----

-----ग.भात -----

-----

-----घ.मुरमुरा -----

-----ङ.चिउड़ा -----

-----

-----

नाटक में हिस्सा लेने वालों को क्या कहते हैं?

---

---

‘मुख्य पात्र’ और ‘गौण पात्र’ किसे कहते हैं?

---

---

---

इस नाटक में कौन-कौन मुख्य पात्र और गौण पात्र हैं?

---

---

---

चावल से बनी कोई एक खाने की चीज़ बनाने की विधि पता करो ।

उसे नीचे दिए गए बिन्दुओं के हिसाब से लिखो ।

- 1.सामग्री            2.तैयारी            3.विधि

---

---

---

---

---

---

---

---

---

---

परमाणु ऊर्जा शिक्षण संस्था

ATOMIC ENERGY EDUCATION SOCIETY

कक्षा/वर्ग : पाँचवी/\_\_\_\_\_ विषय-हिंदी दिनांक:\_\_\_\_\_

नाम : ----- अनुक्रमांक:-----

कार्यपत्र कविता 12 : गुरु और चेला

- I. सही उत्तर चुनो |
  - 1.नगरी की सड़कें कैसी थी?  
टमाटम( ) चमाचम( ) पथरीली( )
  - 2.यह दीवार पहले कैसी बनी थी?  
मजबूत ( ) मोटी ( ) कमजोर ( )
  - 3.चेले ने दनादन क्या खाया?  
मिठाई ( ) हलुआ ( ) केले ( )
- II. नीचे लिखी देशों की मुद्राएँ कौन-सी हैं?
  1. सऊदी अरब -----
  2. जापान -----
  3. फ्रांस -----
  4. इटली -----
  5. इंग्लैंड -----
- III. इन्हें आजकल कैसे लिखते हैं।
  1. छन - -----
  2. भग - -----
  3. घनी - -----
  4. बिरानी - -----
  5. महरत - -----

IV. कविता पूरी करो।

थी बिजली और उसकी सहेली थी बदली

-----  
-----  
-----  
-----

V. दिए गए वाक्यों में ये शब्द भरो।

पटापट चकाचक फटाफट चटाचट झाकाझक खटाखट चटपट

1. आँधी के कारण पेड़ से ----- फल गिर रहे हैं।
2. आज रहमान ने ----- सफ़ेद कुर्ता पाजामा पहना है।
3. हंसा अपना सारा काम ----- कर लेती है।
4. उस भुक्खड़ ने ----- सारे लड्डू खा डाले।
5. सारे बर्तन धुलकर ----- हो गए।

VI. गुरुजी ने क्या बात कही थी?

-----  
-----

VII. कविता को पढ़कर 'अंधेर नगरी' के बारे में कुछ वाक्य लिखो।

(सड़कें, बाज़ार, राजा का राजकाज)

-----  
-----  
-----  
-----



**Atomic Energy Education Society, Mumbai**

**Session 2023-24**

**CLASS-5**

**Worksheet**


**MATHS**

**Lesson-9**


**Boxes and Sketches**

**Q 1. Match the 2-D and 3-D shapes to their examples:-**

2-D shapes



3-D shapes

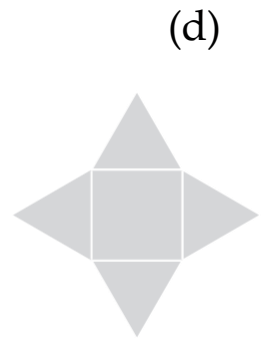
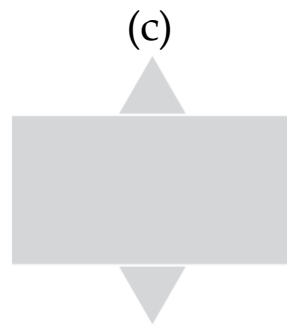
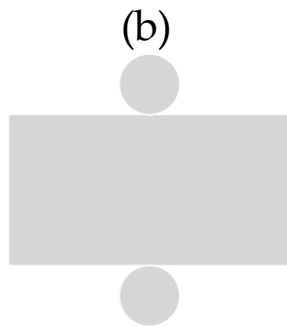
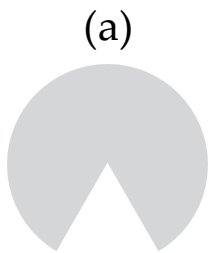


Examples




---

**Q 2. Match the 3-D shapes to their nets:-**



\_\_\_\_\_



\_\_\_\_\_



\_\_\_\_\_



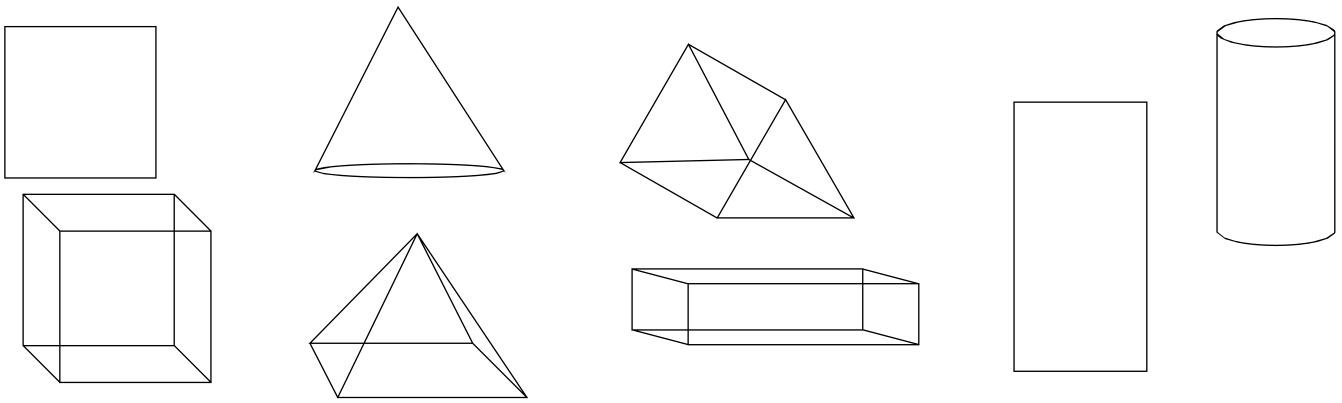
\_\_\_\_\_

**Q 3 .Fill in the blanks:**

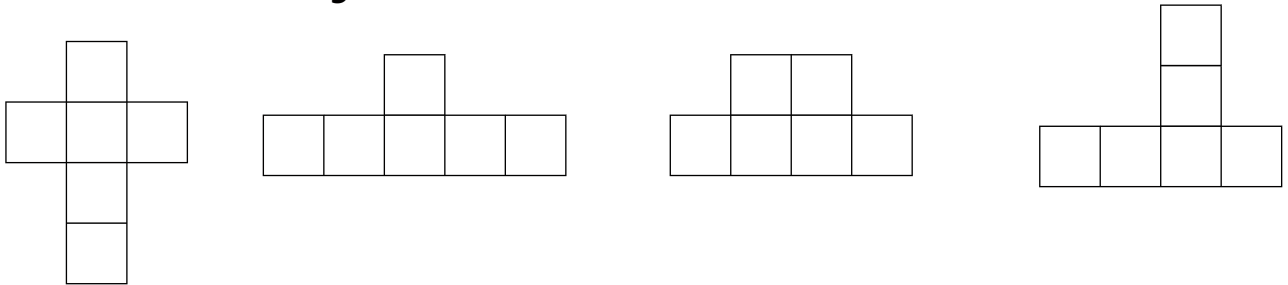
1. A cube has \_\_\_\_\_ faces .
2. The net of a cube contains \_\_\_\_\_ squares.
3. The plane shapes which have two measurements like length and breadth is known as \_\_\_\_\_.
4. The solid objects which have three measurements like length, breadth and height is known as \_\_\_\_\_.
5. A cuboid has \_\_\_\_\_ vertices.
6. A square pyramid has a \_\_\_\_\_ as its base.




**Q 4. Color the 2-D shapes 'green' and the 3-D shapes 'red':-**



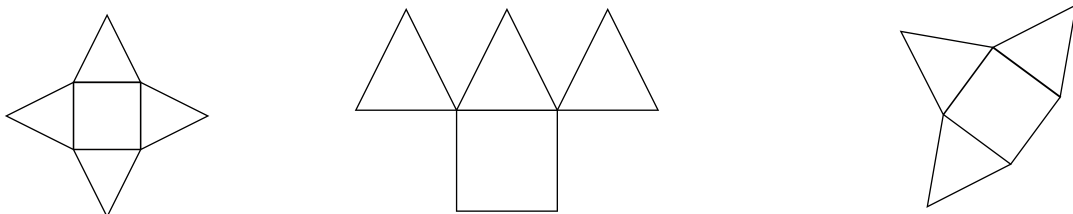
**Q 5. Which of the following nets will make a cube? Colour it.**



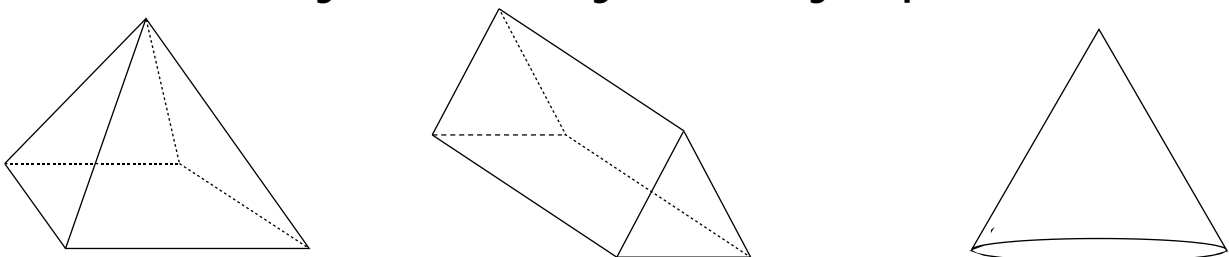
**Q 6. Which of the following nets will make a cuboid? Colour it.**



**Q7. Which of the following nets will make a pyramid? Colour it.**



**Q8. Which of the following is the correct figure for triangular prism? Colour it.**



---

**Q 9. Draw a cube and write the number of faces, edges and vertices of it.**

**Q 10. Draw a lay out which can be folded to make an open box.**

**Q 11. Draw two shapes which can be folded to a closed box.**

**Q 12. Write the names of some 3D shapes.**

Total no. of printed pages: 4

परमाणु ऊर्जाशिक्षण संस्था

Atomic Energy Education Society

Session 2023-24

Class/Sec: V / \_\_\_\_\_

Subject: MATHS

Date: \_\_\_\_\_

Name of the Student: \_\_\_\_\_ Roll no.: \_\_\_\_\_

**Worksheet based on Chapter : Tenths and Hundredths**

**I. Choose the correct answer and put a tick mark (✓) against it.**

(Type of question- MCQ)

- 1 mm = one-tenth of a \_\_\_\_\_.  
(kilometre, centimetre, millimetre )
- 0.01 is equivalent to \_\_\_\_\_.  
(0.010, 0.100, 0.001)
- 9.5 km is more than \_\_\_\_\_ km.  
(9.500, 9.05, 9.55)
- The number 6.70 is read as \_\_\_\_\_.  
(six hundred and seventy, six point seventy, six point seven zero ).
- Rupees  $\frac{1}{4}$  = \_\_\_\_\_ paise.  
(Rupee 0.75, Rupee 0.50, Rupee 0.25 ),
- $4.4 + 4.44 + 0.4 + 0.04 =$  \_\_\_\_\_.  
(8.80, 9.28, 9.44)
- Rupee 0.5 = \_\_\_\_\_.  
(5 paise, 50 paise, 5 rupees)
- 32 hundredths can be written as \_\_\_\_\_.  
(3200,  $\frac{32}{100}$ ,  $\frac{32}{1000}$ )

(Type of question-1 mark)

1. Represent the shaded portion given below as a fraction and a decimal.



Fraction  $\frac{\boxed{\phantom{00}}}{\boxed{10}}$  decimal \_\_\_\_\_

(Type of question-2marks)

2. Write in decimals.

$$\frac{3}{10} = \underline{\hspace{2cm}}$$

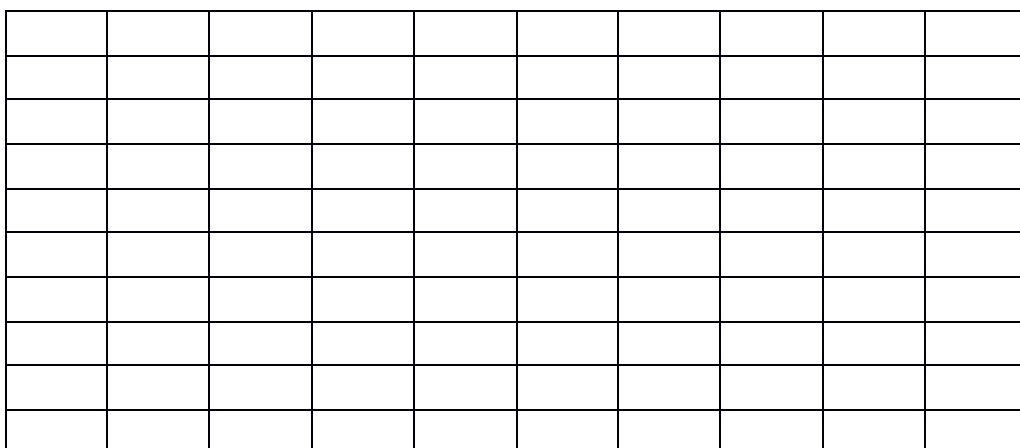
$$\frac{3}{100} = \underline{\hspace{2cm}}$$

$$\frac{13}{10} = \underline{\hspace{2cm}}$$

$$\frac{13}{100} = \underline{\hspace{2cm}}$$

3. Colour the grid as follows.

- a) Red-  $\frac{32}{100}$     b) blue- 0.08    c) green -  $\frac{2}{10}$     d) yellow -



4. Amol went to a shop to buy a few things. The shopkeeper gave him a bill but forgot to put the point correctly in the prices. Put the point in the correct place and find out the total amount.

Item	Quantity	Price(Rs.)	Coouooooorre ct price in Rs.
Sugar	2 kg	8050	
Salt	2 kg	3000	
Papad	2 packets	9650	

Total amount = \_\_\_\_\_

5. On a particular day, the currency rates are as follows:

1 dollar (USA) = 55 Indian Rupees.

1 Euro = 68 Indian Rupees.

Biju got 5 Euros and 10 dollars (USA) as his birthday gift from his is father and uncle respectively. How much money (Indian Rupees) did he get from each one of them ?

6. The cost of a match box is Rs. 0.75. How many match boxes can be got for Rs. 2.25 ?

(Type of question – 4 marks)

- 1 The temperatures of some cities on a particular day are given in the table. Look at the table and answer the following questions

City	Temperature	
	Minimum	Maximum
Mumbai	18.3	33.1
New Delhi	15.5	30.0
Hyderabad	19.0	34.0
Chennai	20.0	32.0
Kolkata	20.7	33.2

- i) Which city had the minimum temperature?

\_\_\_\_\_

- ii) Which city had the maximum temperature?

\_\_\_\_\_

- iii) What is the difference in minimum and maximum temperatures of Mumbai?

\_\_\_\_\_

- iv) How many degrees will the maximum temperature need to rise to reach  $35^{\circ}$  in Kolkata?

\_\_\_\_\_